


Werkkaart 2015-7 AI-00002(1)


(1) Die onderstaande tabel toon 'n opsomming van die aantal selfone wat by “Open ear” verkoop is vir Meimaand.

	Week 1:	Week 2:	Week 3:	Week 4:
Samsung	3	8	6	5
Apple iPhone	4		7	6
LG	5	3	6	2
Totaal:		18		

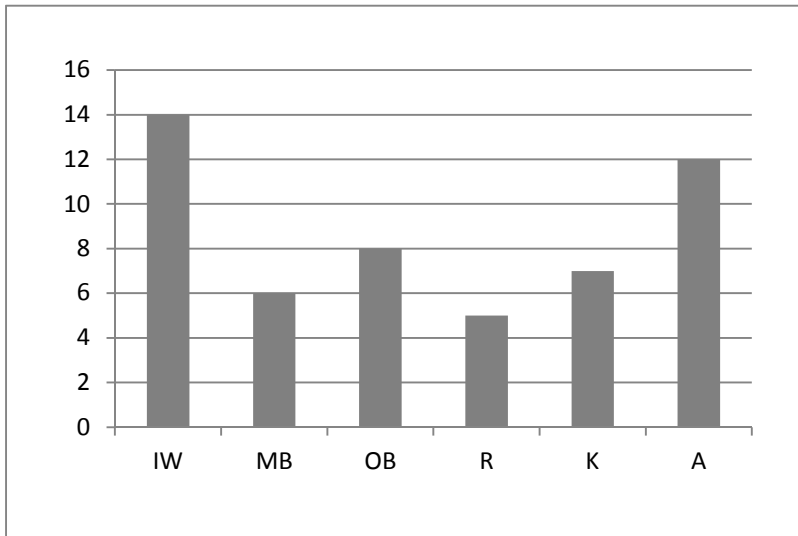
- (a) Voltooi die tabel.
- (b) Teken 'n saamgestelde staafgrafiek om al die verskillende selfone wat vir die vier weke verkoop is, voor te stel.



(c) Teken 'n staafgrafiek om die totale aantal selfone wat vir die vier weke verkoop is, voor te stel.



(2) Die onderstaande staafdiagram toon die aantal studiebeurse (in die verskeie sektore) wat aan voornemende studente toegeken is vir 2015.



Sleutel van die sektor:

- IW - Ingenieurswese
- MB - Medies
- OB - Onderwys
- R - Regte
- K - Kommersiëel
- A - Ander

- (a) Gee 'n toepaslike opskrif vir die grafiek en benoem die twee asse.  
 (b) Voltooi die volgende tabel nadat bogenoemde diagram bestudeer is:

Tipe bedryf:	IW	MB	OB	R	K	A
Aantal beurse:						

(c) Gebruik die tabel in (b) en stel die data nou voor as 'n lyngrafiek.

